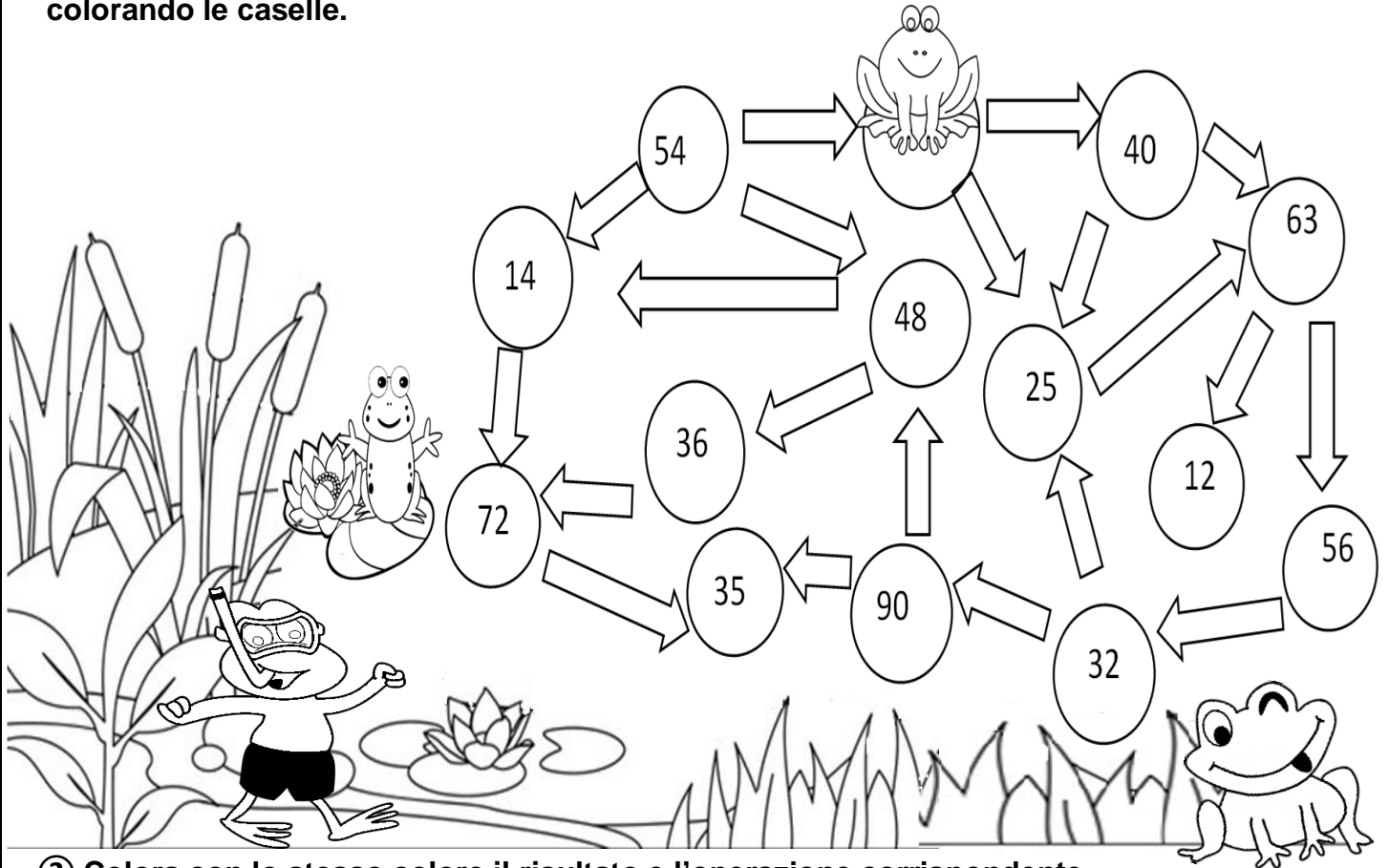





① Tina la rana vuole raggiungere la sua amica sulla ninfea. Per arrivarci deve seguire il percorso con i numeri delle numerazioni dell' 8, del 9 e del 10. Aiutala colorando le caselle.



② Colora con lo stesso colore il risultato e l'operazione corrispondente.

90	24	18		$8 \times 3$	$9 \times 3$	$9 \times 5$
27	81	40		$9 \times 7$	$10 \times 4$	$8 \times 7$
32	48	100		$10 \times 8$	$8 \times 9$	$8 \times 2$
56	45	16		$8 \times 4$	$9 \times 4$	$9 \times 6$
63	54	36		$9 \times 2$	$8 \times 6$	$9 \times 10$
72	80	64		$9 \times 9$	$8 \times 8$	$10 \times 10$

