

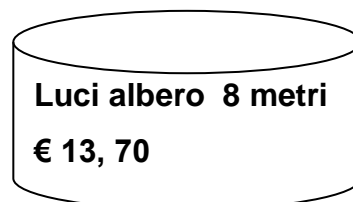
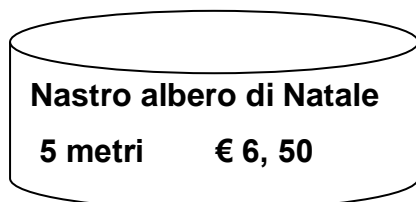
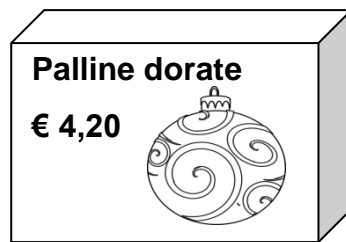
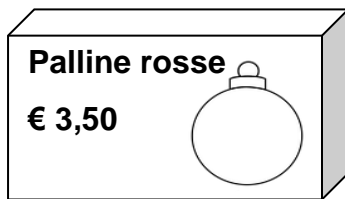
Il paese di Borgoallegro si sta preparando per l'arrivo del Natale. Gli abitanti si organizzano per addobbare l'albero che si trova nella piazza davanti al municipio.

Dopo aver discusso per capire quante scatole di addobbi occorrono, preparano questo elenco:

Occorrente:

12 pacchi di palline oro
15 pacchi di palline rosse
4 pacchi di stelle dorate
3 pacchi di stelle rosse
25 metri di nastro
56 metri di luci

Poi vanno in negozio per fare gli acquisti. Quelli che vedi sono i prezzi indicati su ogni scatola:



Quanto pagheranno alla cassa? _____

Se pagano con tre banconote da 100 €
quanto ricevono di resto? _____

