


① Per ogni situazione scrivi un' addizione e una moltiplicazione (se possibile).




Addizione: _____

Moltiplicazione: _____




Addizione: _____

Moltiplicazione: _____




Addizione: _____

Moltiplicazione: _____



Addizione: _____

Moltiplicazione: _____



Addizione: _____

Moltiplicazione: _____

② Marta ha 3 sacchetti contenenti ciascuno 7 caramelle. Quante caramelle ha Marta in tutto?

Disegno: _____

Operazione: _____

Risposta _____
