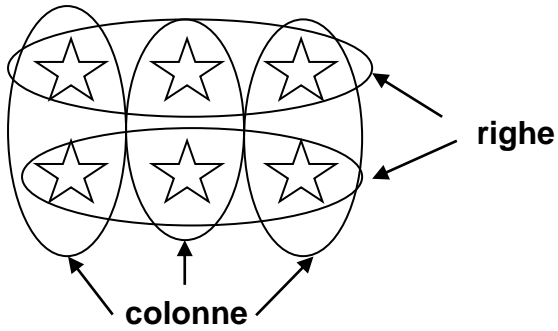


① Osserva gli schieramenti e scrivi la moltiplicazione (disegna le righe e le colonne).





Numero di righe: 2

Numero di colonne: 3

Moltiplicazioni: $2 \times 3 = 8$

$3 \times 2 = 8$



Moltiplicazioni:



_____ x _____ = _____

_____ x _____ = _____

Moltiplicazioni:

_____ x _____ = _____

_____ x _____ = _____



Moltiplicazioni:

_____ x _____ = _____

_____ x _____ = _____

Moltiplicazioni:

_____ x _____ = _____

_____ x _____ = _____



Moltiplicazioni:

_____ x _____ = _____

_____ x _____ = _____

Moltiplicazioni:

_____ x _____ = _____

_____ x _____ = _____