




① Osserva la seguente tabella.

	A	B	C
1			
2			
3			

Lo smile si trova nella casella:

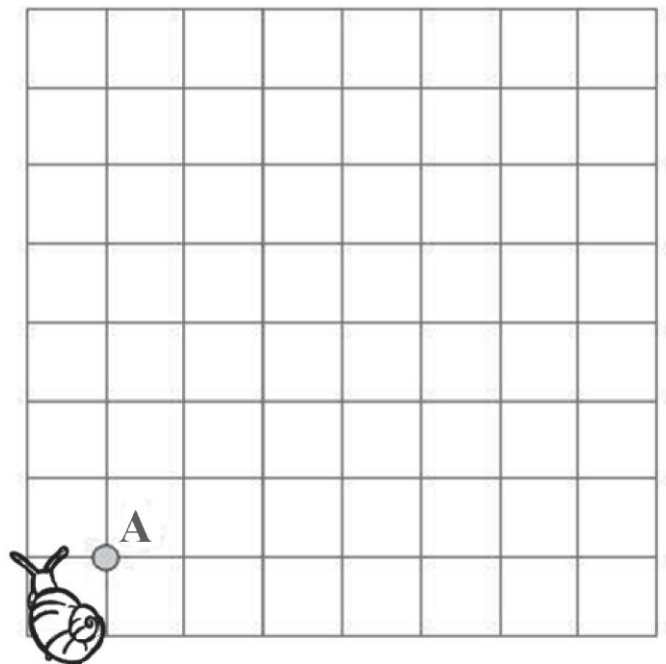
- A. (A, 1)       B. (B, 3)       C. (C, 1)

② La chiocciola parte dal punto A e segue il percorso indicato dai numeri e dalle frecce. Disegna nella griglia il suo percorso.



Quale forma ha il percorso della chiocciola?

- A. Triangolo  
B. Rettangolo  
C. Quadrato



③ Quale tra i seguenti oggetti è il più lungo?

- A. Treno      ■ B. Auto      ■ C. Bicicletta