



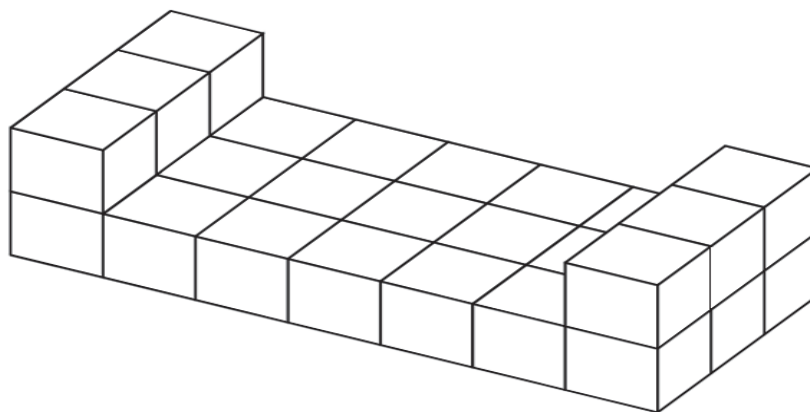


① Al Luna Park vince chi colpisce la mano destra di un pagliaccio. Anna prende la mira e lancia la pallina quattro volte. Indica per ogni figura se Anna ha colpito la mano destra del pagliaccio.

			
<input type="checkbox"/> SI <input type="checkbox"/> NO	<input type="checkbox"/> SI <input type="checkbox"/> NO	<input type="checkbox"/> SI <input type="checkbox"/> NO	<input type="checkbox"/> SI <input type="checkbox"/> NO

② Di quanti cubetti è fatta questa costruzione?

- A. 23
- B. 25
- C. 27



③ Osserva la barchetta.

In tutto i triangoli sono:

- A. 3
- B. 5
- C. 7

