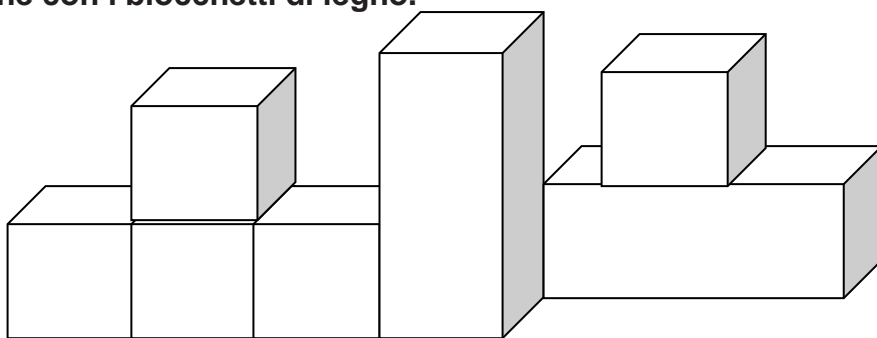


① Carlo ha fatto questa costruzione con i blocchetti di legno.

Quanti pezzi ha usato in tutto?

- A sette
- B. Quattro
- C. Cinque



Quali pezzi ha usato tra questi? Cerchiali.

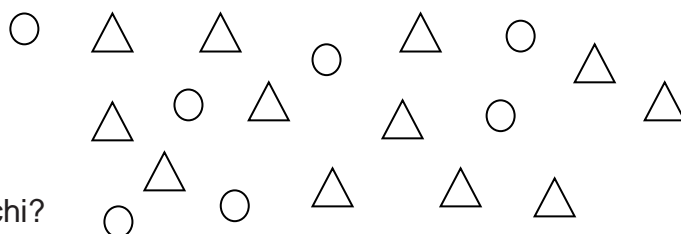
Cubi quadrati rettangoli piramidi parallelepipedi prismi

② Conta e rispondi

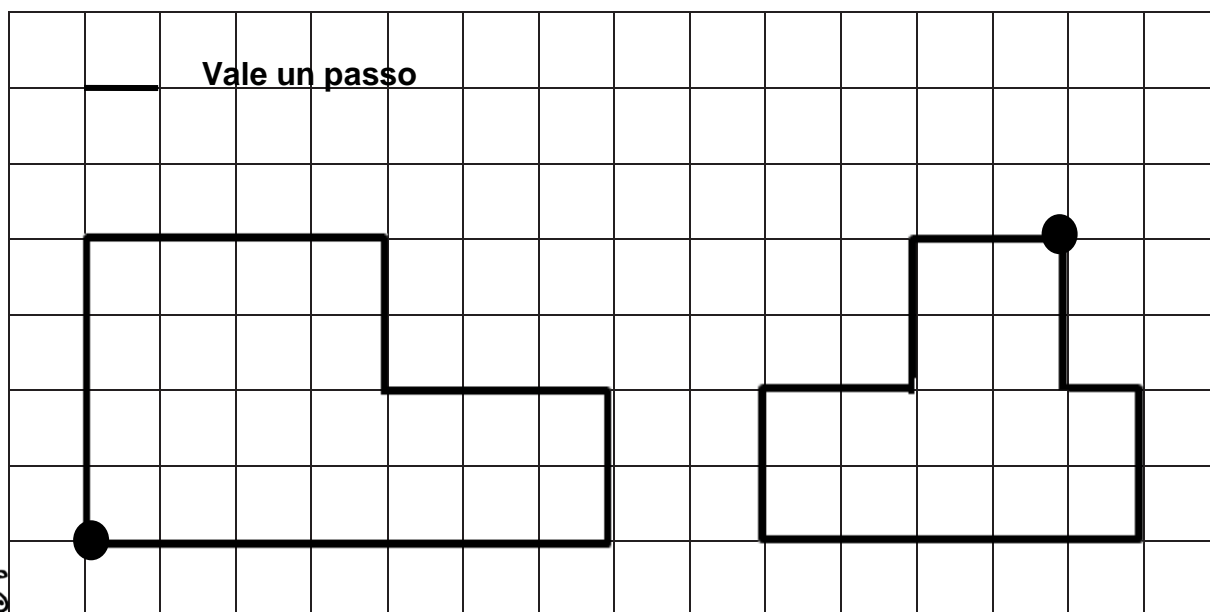
Quanti cerchi ci sono in tutto?

Quanti triangolini?.....

Qual è la differenza tra i triangolini e i cerchi?
.....



③ La lumaca e la formica fanno una passeggiata lungo la linea nera. Partono dal punto nero e tornano al punto di partenza. Conta quanti passi fa ciascuna di loro.



Passi della lumaca:

Passi della formica:

Chi ha fatto più passi?.....

