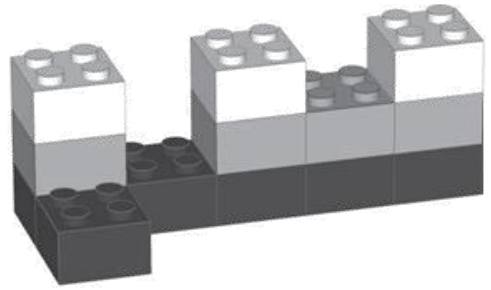



① Con i suoi lego Marco realizza questa costruzione.


Quanti pezzi ha usato per farla? _____




Come si vede la costruzione di Marco dall'alto? Crocetta la risposta.



A



B.



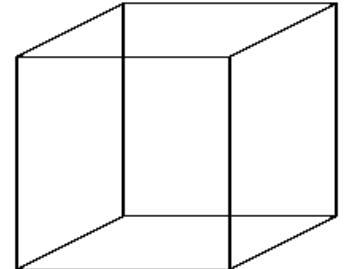
C.

② Come si chiama questo solido? _____

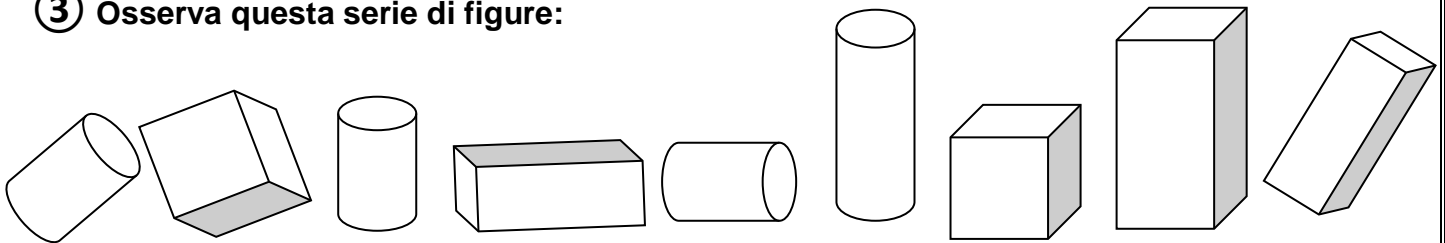
Quante facce ha? _____

Quanti spigoli ha? _____

Quale figura forma le sue facce? _____



③ Osserva questa serie di figure:



Quanti cubi ci sono? _____ Quanti cilindri ci sono? _____

Quanti parallelepipedi ci sono? _____ Quante sfere ci sono? _____