

① SANDRA ha il suo nome stampato sulla cappello. Si guarda allo specchio e lo vede scritto così:

SANDRA?

Anche LUCIA ha il suo nome stampato sul cappello. Come sarà il suo nome visto allo specchio?

AICUL

A.

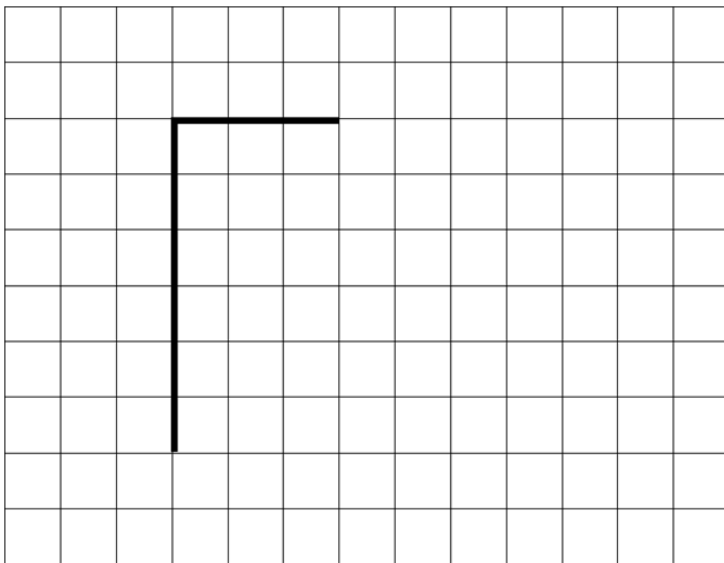
LUCIA

B.

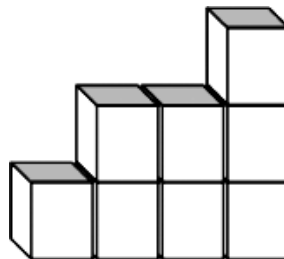

AICUJ

C.

② Completa la figura in modo da formare un rettangolo:



③ Marco ha fatto questa costruzione con i cubetti di legno. Anche Anna ha fatto la sua costruzione utilizzando 5 cubetti in più. Quanti cubetti ha utilizzato Anna per fare la sua costruzione?



A. 12

B. 15

C. 13

