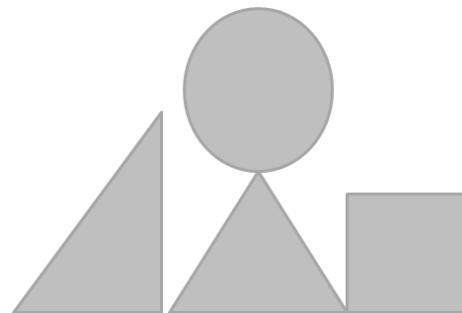


① Questa figura è formata da


- A. un cerchio, due triangoli e un quadrato
- B. due quadrati, un cerchio e un triangolo
- C. un rettangolo, due quadrati e un cerchio



② Questo è un pezzo delle costruzioni in legno di Sergio.

Quante facce ha in tutto?

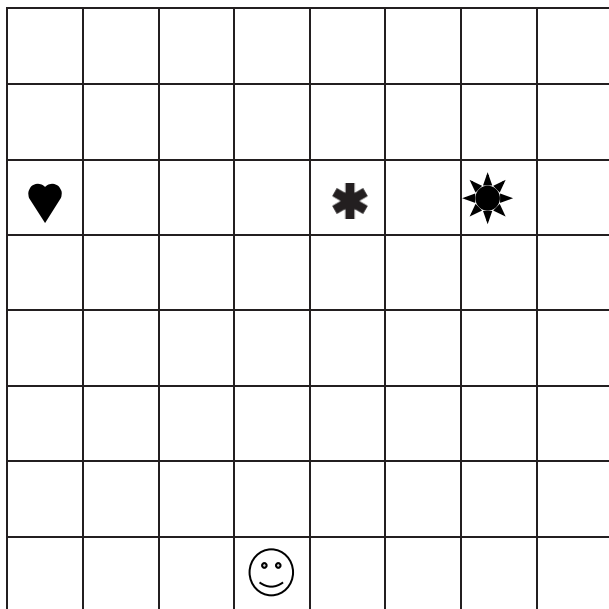
- A due
- B. Quattro
- C. Cinque



Le facce sono:

- A Tutte triangoli
- B. Tutte quadrati
- C. Quadrati e triangoli

③ Sara muove una pedina sulla scacchiera che vedi qui sotto. Esegui il percorso disegnandolo con la matita e poi cerchia la risposta corretta.



Parte dal punto segnato con ☺ e muove la pedina:
4 caselle verso l'alto,
4 caselle a destra
3 caselle verso l'alto
1 casella a sinistra
2 caselle verso il basso

La pedina arriva nella casella segnata con

