


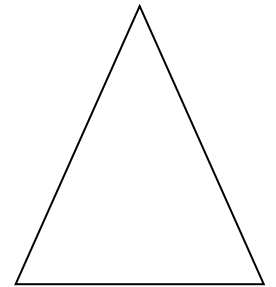
① Completa le tabelle



Numero di bici	1	2	5	7	9
Numero di ruote	2				



Numero di triangoli	1	2	5	7	9
Numero di lati	3				



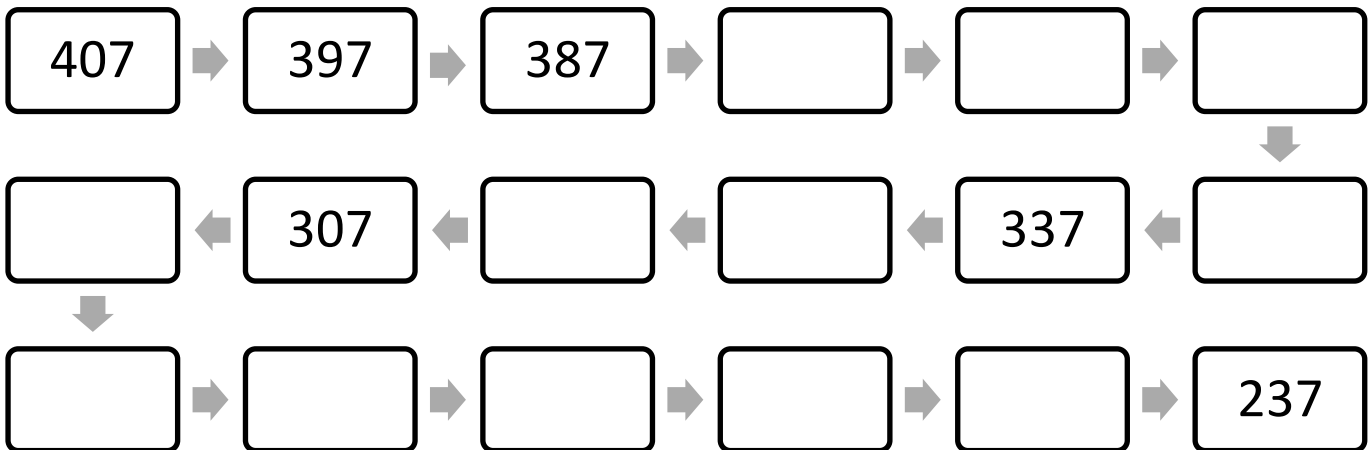
② Quale tra queste operazioni dà il risultato minore?

A. $105 - 3$

B. $98 - 3$

C. $102 - 3$

③ Completa la numerazione



④ Giovanni compra 2 scatole di matite come nella figura.

Poi, però, perde 3 matite. Quante matite gli restano?

A. 9

B. 15

C. 3

