

① Chi tra Anna, Barbara e Chiara ha fatto il calcolo giusto?

A. Anna



diciotto più tredici
è uguale a trentuno

B. Barbara




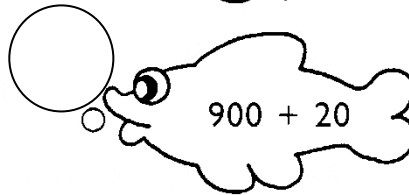


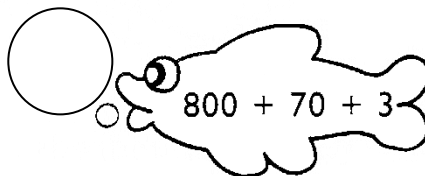

diciotto più tredici
è uguale a ventuno

C. Chiara



diciotto più tredici
è uguale a trenta

② Esegui le addizioni e scrivi i risultati nelle bolle



③ Trova il numero mancante (per trovarlo devi fare una sottrazione)

$25 + \dots = 75$

$32 + \dots = 96$

$32 + \dots = 286$

$43 + \dots = 153$

$54 + \dots = 87$

$64 + \dots = 175$

$14 + \dots = 58$

$26 + \dots = 78$

$81 + \dots = 397$

$125 + \dots = 275$

$232 + \dots = 996$

$341 + \dots = 589$

$243 + \dots = 876$

$421 + \dots = 654$

$467 + \dots = 698$

$426 + \dots = 877$

$321 + \dots = 754$

$204 + \dots = 684$

④ Trova il numero nascosto dal cuore: $\heartsuit - 18 = 7$

A. 11

B. 15

C. 25